



Board of Elementary Examination Gilgit-Baltistan
Special Examination-2024

Class: 8
Subject: Computer Science

Time: 25 Minutes
Total Marks: 20

Roll Number							
0	0	0	0	0	0	0	0
1	1	1	1	1	1	1	1
2	2	2	2	2	2	2	2
3	3	3	3	3	3	3	3
4	4	4	4	4	4	4	4
5	5	5	5	5	5	5	5
6	6	6	6	6	6	6	6
7	7	7	7	7	7	7	7
8	8	8	8	8	8	8	8
9	9	9	9	9	9	9	9

Ans. Script No. _____

Invigilator’s Sign: _____

SECTION-A

Section – A is compulsory. All parts of this section are to be answered on this page and handed over to the Centre Superintendent. Deleting/overwriting is not allowed. **Do not use lead pencil.**

Q.1. Fill the relevant bubble for each part on bubble sheet. Each part carries one mark.

#	Question	A	B	C	D	A	B	C	D
i.	What does 5G stand for?	Five Game	Fifth Gadget	Fifth Generation	Five Gigabytes	<input type="radio"/>	<input type="radio"/>	<input type="radio"/>	<input type="radio"/>
ii.	CAT is used for _____.	Translation of text	Transmission of Text	Transcription of Text	Transfer of Text	<input type="radio"/>	<input type="radio"/>	<input type="radio"/>	<input type="radio"/>
iii.	The best description of Holographic imaging technology is creation of _____.	2D image	3D image	HD image	B&W image	<input type="radio"/>	<input type="radio"/>	<input type="radio"/>	<input type="radio"/>
iv.	_____ is an example of Distributed Application.	MS Word	Calculator	Notepad	Facebook	<input type="radio"/>	<input type="radio"/>	<input type="radio"/>	<input type="radio"/>
v.	Where is Block Chain commonly applied?	Traditional classroom	Banking System	Text Editing	Color Coding	<input type="radio"/>	<input type="radio"/>	<input type="radio"/>	<input type="radio"/>
vi.	Which communication technology uses light waves instead of radio waves?	LiFi	WiFi	Bluetooth	Ethernet	<input type="radio"/>	<input type="radio"/>	<input type="radio"/>	<input type="radio"/>
vii.	Bluetooth technology is used for _____.	Editing data	Encrypting data	Translating data	Sharing data	<input type="radio"/>	<input type="radio"/>	<input type="radio"/>	<input type="radio"/>
viii.	Which of these options duplicate the selection and place it on the clipboard for pasting?	Cut	Copy	Format	Delete	<input type="radio"/>	<input type="radio"/>	<input type="radio"/>	<input type="radio"/>
ix.	What does the Halting Problem refer to in computing?	Program efficiency	Memory calculation	Program termination	Memory allocation	<input type="radio"/>	<input type="radio"/>	<input type="radio"/>	<input type="radio"/>
x.	What do repeat loops help us do in programming?	Debug errors	Skip tasks	Store data	Redo tasks	<input type="radio"/>	<input type="radio"/>	<input type="radio"/>	<input type="radio"/>
xi.	An efficient algorithm gives maximum output by using _____ resources.	Fewer	Unused	Extra	More	<input type="radio"/>	<input type="radio"/>	<input type="radio"/>	<input type="radio"/>
xii.	What is an example of a numeric value in programming?	Hello	Name	Number	Method	<input type="radio"/>	<input type="radio"/>	<input type="radio"/>	<input type="radio"/>
xiii.	What is the purpose of the Scratch block? 	Repeats actions	Stops execution	Stores data	Makes decisions	<input type="radio"/>	<input type="radio"/>	<input type="radio"/>	<input type="radio"/>
xiv.	What does the floor() function do in Scratch?	Round up	Round down	Add numbers	Remove numbers	<input type="radio"/>	<input type="radio"/>	<input type="radio"/>	<input type="radio"/>
xv.	What is the output of the following code? print('Hello')	'Hello'	('Hello')	Hello	Print ('Hello')	<input type="radio"/>	<input type="radio"/>	<input type="radio"/>	<input type="radio"/>
xvi.	Which of these codes contains a variable?	print(5 + 3)	if 5 > 3:	while True:	x = 10	<input type="radio"/>	<input type="radio"/>	<input type="radio"/>	<input type="radio"/>
xvii.	Which of these functions is used to get power value of a number?	pow()	power()	math.pow()	pow.num()	<input type="radio"/>	<input type="radio"/>	<input type="radio"/>	<input type="radio"/>
xviii.	What can a hacker do?	Sing songs	Fix computers	Break securities	Paint pictures	<input type="radio"/>	<input type="radio"/>	<input type="radio"/>	<input type="radio"/>
xix.	_____ is the act of illegally copying and sharing digital content.	Data Encryption	Ethical Hacking	Cyber Security	Digital Piracy	<input type="radio"/>	<input type="radio"/>	<input type="radio"/>	<input type="radio"/>
xx.	Which digital platform is used for sharing information in video format?	YouTube	Newspaper	Radio	Television	<input type="radio"/>	<input type="radio"/>	<input type="radio"/>	<input type="radio"/>



Board of Elementary Examination Gilgit-Baltistan

Special Examination-2024

Class: 8
Subject: Computer Science

Time: 2 Hour 35 Minutes
Total Marks: 80

Roll No.: _____ Ans. Script No. _____ Invigilator's Sign: _____

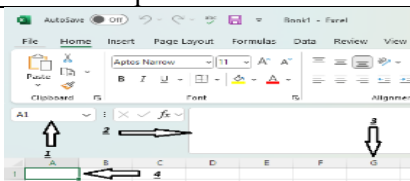
SECTION-B (Marks 45)

Q.2. Attempt all parts from the following. All parts carry equal marks. (03×15=45)

#	Question		Question	Marks
i.	Define Blockchain in THREE lines.	OR	Name any THREE components of Satellite Communication system.	3
ii.	List any THREE benefits of IoT technology.	OR	State THREE uses of Virtual Reality.	3
iii.	Write any THREE distinctions between LAN and MAN.	OR	How does guided media differ from unguided media in any THREE ways?	3
iv.	Describe how GPS technology works in any THREE key points.	OR	Compare data handling in a Network Hub and a Network Switch in THREE points.	3
v.	Identify any THREE purposes of spreadsheet.	OR	Write down THREE tabs in MS Excel.	3
vi.	Suggest any THREE advantages of digital marketing.	OR	Write any THREE distinctions between payment and transaction.	3
vii.	State any THREE commonly committed cybercrimes.	OR	Enlist any THREE symptoms of Malware attacks.	3
viii.	Why is it important to be aware of online safety? Give THREE points.	OR	Why is digital piracy illegal? Provide THREE reasons.	3
ix.	Write any THREE methods of payment.	OR	List any THREE elements of marketing.	3
x.	How do credit cards differ from debit cards? Give THREE points.	OR	How does the quality assurance process ensure the quality of products or services? Justify in THREE points.	3
xi.	Enlist THREE problems that a computer can solve.	OR	State THREE key aspects of the scope of a problem.	3
xii.	List THREE key steps to write a pseudocode.	OR	Identify constants and variables from the given examples: x, 3.14, 15	3
xiii.	Write the names of any THREE types of programming loops.	OR	State any THREE elements of the Scratch programming language.	3
xiv.	Why are these functions used in Scratch? a.) Sqrt b.) Type c.) divmod	OR	What is the value of the given variables? a = 2 b = a + 5 c = b * 1	3
xv.	Suggest any THREE ways to prevent cyber violence.	OR	Why is the internet used in education? Provide THREE points.	3

SECTION-C (Marks 35)

Note: Attempt all questions; each question carries equal marks. (07×05=35)

#	Question		Question	Marks							
Q.3.	a) Suggest any THREE usages of Machine Learning in daily life.	OR	a) What are the THREE benefits of using computer networks?	03							
	b) State four real-world uses of Artificial Intelligence (AI).	OR	b) Draw a labeled diagram of a data communication system with at least FOUR components.	04							
Q.4.	a) Distinguish between PAN and VPN in any THREE specific points. (03)	OR	Draw a labeled diagram of a Metropolitan Area Network (MAN) connecting two different LANs.	3							
	b) Why are robots used in various industries? Provide any FOUR reasons. (04)			4							
Q.5.	Why do we use the following shortcut keys in MS Excel? <table border="1"><tr><td>Ctrl + N</td><td>Ctrl + B</td><td>Ctrl + X</td><td rowspan="2">Ctrl + S</td></tr><tr><td>Ctrl + A</td><td>Ctrl + C</td><td>Ctrl + V</td></tr></table>	Ctrl + N	Ctrl + B	Ctrl + X	Ctrl + S	Ctrl + A	Ctrl + C	Ctrl + V	OR	a) Why is the AVERAGE function used in MS Excel? Provide TWO examples.	1+2
		Ctrl + N	Ctrl + B	Ctrl + X		Ctrl + S					
Ctrl + A	Ctrl + C	Ctrl + V									
	b) Identify the FOUR labelled areas from the given diagram. 	04									
Q.6.	Write a pseudocode to generate the multiplication table of a given number up to 10.	OR	Convert the given pseudocode into a program using any programming language: Line 0: Start Line 1: Take input (num1) Line 2: check input is positive or not Line 3: Result (END)	07							
Q.7.	Write any SEVEN Pakistan's Cybercrime Laws.	OR	a) State any FOUR positive impacts of social media.	04							
			b) Write any THREE ethical uses of digital technology.	03							



Board of Elementary Examination Gilgit-Baltistan
Special Examination-2024

Class: 8
Subject: Drawing

Time: 25 Minutes
Total Marks: 20





Roll Number							
0	0	0	0	0	0	0	0
1	1	1	1	1	1	1	1
2	2	2	2	2	2	2	2
3	3	3	3	3	3	3	3
4	4	4	4	4	4	4	4
5	5	5	5	5	5	5	5
6	6	6	6	6	6	6	6
7	7	7	7	7	7	7	7
8	8	8	8	8	8	8	8
9	9	9	9	9	9	9	9

Ans. Script No. _____ Invigilator’s Sign: _____

SECTION-A

Section – A is compulsory. All parts of this section are to be answered on this page and handed over to the Centre Superintendent. Deleting/overwriting is not allowed. **Do not use lead pencil.**

Q.1. Fill the relevant bubble for each part on bubble sheet. Each part carries one mark.

#	Question	A	B	C	D	A	B	C	D
i.	Drawing ink has _____types.	1	2	3	4	<input type="radio"/>	<input type="radio"/>	<input type="radio"/>	<input type="radio"/>
ii.	Identify the shape of Pentagon.					<input type="radio"/>	<input type="radio"/>	<input type="radio"/>	<input type="radio"/>
iii.	Which tool is commonly used for technical drawing and illustrations?	Drawing pen	Paint brush	Charcoal stick	Pastel crayons	<input type="radio"/>	<input type="radio"/>	<input type="radio"/>	<input type="radio"/>
iv.	What is the name of shape that has four equal sides and four right angles?	Rectangle	Rhombus	Square	Kite	<input type="radio"/>	<input type="radio"/>	<input type="radio"/>	<input type="radio"/>
v.	Clay is used for:	Glass and plastic making	Metal and wood crafting	Paper and porcelain manufacturing	Brick and tile making	<input type="radio"/>	<input type="radio"/>	<input type="radio"/>	<input type="radio"/>
vi.	A shape with six sides is called a _____.	Hexagon	Octagon	Pentagon	Heptagon	<input type="radio"/>	<input type="radio"/>	<input type="radio"/>	<input type="radio"/>
vii.	_____ is a flat shape based upon straight lines to make a closed circuit.	Sphere	Polygon	Cylinder	Circle	<input type="radio"/>	<input type="radio"/>	<input type="radio"/>	<input type="radio"/>
viii.	_____ means placing elements side by side in an artwork for contrast or comparison.	Landscape	Portrait	Typography	Juxtaposed	<input type="radio"/>	<input type="radio"/>	<input type="radio"/>	<input type="radio"/>
ix.	Green, red and violet are _____ colours.	Tertiary	Primary	Secondary	Fresco	<input type="radio"/>	<input type="radio"/>	<input type="radio"/>	<input type="radio"/>
x.	Mixing cyan color to yellow produces _____.	orange	Blue	red	green	<input type="radio"/>	<input type="radio"/>	<input type="radio"/>	<input type="radio"/>
xi.	What is the principle that helps create a focal point in an artwork?	Proportion	Emphasis	Unity	Movement	<input type="radio"/>	<input type="radio"/>	<input type="radio"/>	<input type="radio"/>
xii.	Which material is commonly used for low-cost model making?	Goldplate	Marblestone	Cardboard	Glassware	<input type="radio"/>	<input type="radio"/>	<input type="radio"/>	<input type="radio"/>
xiii.	What is necessary for effective block printing?	Stencil proficiency	Random cutting	Freehand drawing	Pattern alignment	<input type="radio"/>	<input type="radio"/>	<input type="radio"/>	<input type="radio"/>
xiv.	What does a square typically symbolize?	Stability and structure	Chaos and randomness	Speed and movement	Fragility and weakness	<input type="radio"/>	<input type="radio"/>	<input type="radio"/>	<input type="radio"/>
xv.	Strength and emphasis are examples of _____.	vertical lines	curved lines	thin lines	thick Lines	<input type="radio"/>	<input type="radio"/>	<input type="radio"/>	<input type="radio"/>
xvi.	What do acquired skills lead to?	Confusion	Creativity	Limitation	Randomness	<input type="radio"/>	<input type="radio"/>	<input type="radio"/>	<input type="radio"/>
xvii.	What makes an effective presentation?	Skill and effort	Lack of resources and preparation	Irrelevant details and excessive duration	Overloading with text and data	<input type="radio"/>	<input type="radio"/>	<input type="radio"/>	<input type="radio"/>
xviii.	Which elements are included in the vast range of art vocabulary?	Painting and techniques	Communication and Exhibition	Music and rhythms	Science and formulas	<input type="radio"/>	<input type="radio"/>	<input type="radio"/>	<input type="radio"/>
xix.	The key component of critique is:	Disapproval and rejection	Appreciation and review	Ignorance and avoidance	Disparagement and neglect	<input type="radio"/>	<input type="radio"/>	<input type="radio"/>	<input type="radio"/>
xx.	Assembling your materials and tools before starting artwork helps to:	Improve work quality	Maintain focus throughout	Complete work on time	Avoid unnecessary delays	<input type="radio"/>	<input type="radio"/>	<input type="radio"/>	<input type="radio"/>



Board of Elementary Examination Gilgit-Baltistan
Special Examination-2024

Class: 8
Subject: Drawing

Time: 2 Hours 35 Minutes
Total Marks: 80

Roll No.: _____ Ans. Script No. _____ Invigilator's Sign: _____

SECTION-B (Marks 45)

Q.2. Attempt all parts from the following. All parts carry equal marks. (03×15=45)

#	Question		Question	Marks
i.	Write the names of any THREE Charcoal forms.	OR	Define drawing pens in THREE sentences.	3
ii.	Write any THREE uses of printing blocks.	OR	Write any THREE uses of Plasticine.	3
iii.	Define enlargement method in THREE lines.	OR	Define reducing method in THREE lines.	3
iv.	Draw a Rhombus.	OR	Draw a square.	3
v.	Draw a regular Hexagon.	OR	Draw an irregular Hexagon.	3
vi.	Describe Principle of balance in composition in THREE sentences.	OR	Describe Landscape in Three Lines.	3
vii.	Write the names of any THREE primary colours.	OR	Write the names of any THREE tertiary colours.	3
viii.	How does typography influence the readability and visual impact of design?	OR	How does juxtaposed image create contrast in visual composition?	3
ix.	Describe the process of making a hollow model of violin in THREE sentences.	OR	How does Proficiency in stencil making improve the quality and consistency of block printing?	3
x.	Enlist THREE materials used in block printing solid cube.	OR	Enlist THREE materials used in stenciling with smoke art.	3
xi.	Describe any THREE rules to build the observational skill.	OR	Explain any THREE symbolic meanings of triangle.	3
xii.	What do vertical lines represent in art? Write Three points.	OR	What do horizontal lines represent in art? Write Three points.	3
xiii.	Draw a monogram for your school library.	OR	Draw a diagram of peach considering the graphic impression rules.	3
xiv.	Why is it important to use suitable materials according to the activity?	OR	Describe the procedure of making petals with the help of soap and toothpicks in THREEC lines.	3
xv.	Define the importance of time management.	OR	Enlist the materials used in paper strip design making.	3

SECTION-C (Marks 35)

Note: Attempt all questions; each question carries equal marks. (07×05=35)

#	Question		Question	Marks
Q.3.	Define art and craft materials and tools in Three lines. Also describe any Two art and craft materials and tools.	OR	Describe the process of transforming image with grid in freehand drawing.	7
Q.4.	Define process wheel. Also differentiate between pigment wheel and process wheel.	OR	Define Primary colour. Also differentiate between secondary and tertiary colour.	7
Q.5.	a). Define Quadrilaterals.	OR	a). Define Equal ratio.	3
	b). Define Polygons.	OR	b). Define Enlargement method.	4
Q.6.	Draw a diagram of horse and fill the appropriate colour.	OR	Draw a diagram of teacup and a leaf.	7
Q.7.	Discuss critique and criticism.	OR	List any SEVEN points to be considered for effective communication and exhibition of artwork.	7

Roll Number							
0	0	0	0	0	0	0	0
1	1	1	1	1	1	1	1
2	2	2	2	2	2	2	2
3	3	3	3	3	3	3	3
4	4	4	4	4	4	4	4
5	5	5	5	5	5	5	5
6	6	6	6	6	6	6	6
7	7	7	7	7	7	7	7
8	8	8	8	8	8	8	8
9	9	9	9	9	9	9	9

بورڈ آف ایلیمینٹری ایگزامینیشن گلگت بلتستان



خصوصی امتحان 2024

جماعت : ہشتم
مضمون : زرعی تعلیم

کل وقت : 25 منٹ
کل نمبرات : 20

دستخط متحن _____ جوابی نمبر کاپی _____

حصہ اول

حصہ اول لازمی ہے۔ اس کے جوابات اسی صفحہ پر دے کر ناظم امتحانی مرکز کے حوالے کریں۔ کاٹ کر یا دوبارہ لکھنے کی اجازت نہیں ہے۔ لیڈ پینسل کا استعمال ممنوع ہے۔
سوال 1: ہر سوال کے سامنے دیئے گئے درست دائرہ کو پر کریں۔ ہر سوال کے نمبر مساوی ہیں۔

#	سوال	الف	ب	ج	د	الف	ب	ج	د
i.	گندم کی شرح بیج _____ کلو گرام فی ایکڑ ہے۔	02 سے 16	12 سے 26	22 سے 36	32 سے 46	<input type="radio"/>	<input type="radio"/>	<input type="radio"/>	<input type="radio"/>
ii.	جن زمینوں میں _____ کے مرکبات کھاد پیدا کر دیں وہ زمین بھی سیم زدہ ہو جاتی ہے۔	سوڈا اور پوٹاش	سلفر اور چسپم	فاسفورس اور نائٹریٹ	نائٹروجن اور کیلشیم	<input type="radio"/>	<input type="radio"/>	<input type="radio"/>	<input type="radio"/>
iii.	زمین کو کٹاؤ، سیلاب اور دیگر نقصانات سے بچانے کے عمل کو _____ کہتے ہیں۔	بردگی اراضی	اصلاح اراضی	تحفظ اراضی	تجیر اراضی	<input type="radio"/>	<input type="radio"/>	<input type="radio"/>	<input type="radio"/>
iv.	_____ عموماً ہر قسم کی قابل کاشت زمین میں پیدا ہو سکتی ہے۔	جوار	گندم	آلو	مکئی	<input type="radio"/>	<input type="radio"/>	<input type="radio"/>	<input type="radio"/>
v.	سمندر کا پانی بخارات بن کر ہوا میں جب آخری حد تک پہنچ جاتا ہے تو اسے _____ کہتے ہیں۔	سیر شدہ ہوا	آلودہ ہوا	صاف ہوا	سرد ہوا	<input type="radio"/>	<input type="radio"/>	<input type="radio"/>	<input type="radio"/>
vi.	فصلوں کی حفاظت کے لئے عام طور پر کس پودے کو چھوٹی باڑ کے طور پر لگایا جاتا ہے؟	انار	خوبانی	لیموں	آڑو	<input type="radio"/>	<input type="radio"/>	<input type="radio"/>	<input type="radio"/>
vii.	چینی کھجی کی سالانہ پیداوار کتنی ہوتی ہے؟	40 ہزار ٹن	50 ہزار ٹن	60 ہزار ٹن	70 ہزار ٹن	<input type="radio"/>	<input type="radio"/>	<input type="radio"/>	<input type="radio"/>
viii.	گندم میں کانگاری کی بیماری کے خاتمے کے لیے کون سا طریقہ اپنایا جاسکتا ہے؟	پودے کو اکھاڑنا	بوائی کرنا	گوڈی کرنا	تازہ اور صاف پانی میں بھگوننا	<input type="radio"/>	<input type="radio"/>	<input type="radio"/>	<input type="radio"/>
ix.	پودے کی نشوونما اور پیداوار پر مثبت اثرات مرتب کرنے والے اجزاء کو _____ کہتے ہیں۔	نمکیات	پارہ	گندھک	لیڈ	<input type="radio"/>	<input type="radio"/>	<input type="radio"/>	<input type="radio"/>
x.	جانوروں کے منہ اور کھروں پر اثر انداز ہونے والی بیماری کون سی ہے؟	تپ دق	منہ کھر	اچھارہ	ستبلا	<input type="radio"/>	<input type="radio"/>	<input type="radio"/>	<input type="radio"/>
xi.	تھور کے باعث سطح زمین پر جو سفید نمکیات نمودار ہو جاتے ہیں ان نمکیات کو کیا کہتے ہیں؟	وتر	کلراکھی	کلر	سیم	<input type="radio"/>	<input type="radio"/>	<input type="radio"/>	<input type="radio"/>
xii.	بارش یا سیلاب کی وجہ سے ذخیرہ شدہ اجناس میں نمی کی زیادتی کے باعث _____ لگ جاتا ہے۔	کیڑے	پھپھوندی	سسری	ڈھورا	<input type="radio"/>	<input type="radio"/>	<input type="radio"/>	<input type="radio"/>
xiii.	اگر زمین کی پی ایچ 5ء8 سے زیادہ ہو تو وہ زمین _____ ہوتی ہے۔	سیم زدہ	تھور زدہ	افزائش زدہ	سپرے زدہ	<input type="radio"/>	<input type="radio"/>	<input type="radio"/>	<input type="radio"/>
xiv.	تھور زدہ زمین کی بحالی کے لئے کون سا پودا استعمال ہوتا ہے؟	دھان	جنتر	رائی	کماڈ	<input type="radio"/>	<input type="radio"/>	<input type="radio"/>	<input type="radio"/>
xv.	آبیائی کے لیے پانی کو محفوظ کرنے کے _____ طریقے ہیں۔	5	6	7	8	<input type="radio"/>	<input type="radio"/>	<input type="radio"/>	<input type="radio"/>
xvi.	ناخواستہ پودوں کو زمین سے ختم کرنے کا طریقہ کون سا ہے؟	گوڈی کرنا	جلانا	پانی دینا	سپرے کرنا	<input type="radio"/>	<input type="radio"/>	<input type="radio"/>	<input type="radio"/>
xvii.	کھجی کو طویل عرصے کے لیے ذخیرہ کرنے کے لیے آپ کون سا طریقہ استعمال کر سکتے ہیں؟	پانی میں بھگوننا	فرق میں رکھنا	دھوپ میں خشک کرنا	پلاسٹک کی تھیلی میں رکھنا	<input type="radio"/>	<input type="radio"/>	<input type="radio"/>	<input type="radio"/>
xviii.	گندم کی سسری کے حملے کی علامات کیا ہیں؟	پتوں پر سوراخ ہونا	آٹے کی طرح	سرخ مائل رنگت کا ہونا	تتے میں کیڑا ہونا	<input type="radio"/>	<input type="radio"/>	<input type="radio"/>	<input type="radio"/>
xix.	آپ کے علاقے میں اگنے والی کھجی کی کون سی قسم ہے؟	یورپی کھجی	شاہ بلوط کی کھجی	ڈھینگری کھجی	چینی کھجی	<input type="radio"/>	<input type="radio"/>	<input type="radio"/>	<input type="radio"/>
xx.	ترقی دادہ اور صحت مند بیج کے انتخاب کے لیے اسے _____ کے محلول میں ڈالنا ضروری ہے۔	نمک	چینی	گندھک	چسپم	<input type="radio"/>	<input type="radio"/>	<input type="radio"/>	<input type="radio"/>



کل وقت : 2 گھنٹے 35 منٹ
کل نمبرات : 80

جماعت : ہشتم
مضمون : زرعی تعلیم

دستخط معتمد _____ جوابی نمبر کا پی _____

حصہ دوم:

درج ذیل سوالات کے جوابات علیحدہ سے مہیا کی گئی جوابی کا پی پر دیں۔ آپ کے جوابات صاف اور واضح ہونے چاہیئے۔

(03 × 15 = 45)

سوال 2: تمام سوالات کے جوابات دیں۔ ہر سوال کے نمبر مساوی ہیں۔

#	سوال	سوال	نمبرات
(i)	مکئی کے بیج کی تین ترقی دادہ اقسام کے نام لکھیں۔	یا	زرعی اجناس کو نقصان پہنچانے والے تین کیڑوں کے نام لکھیں۔
(ii)	یکیمیائی کھاد کی تعریف کریں۔ نیز کوئی سے دو یکیمیائی کھادوں کے نام لکھیں۔	یا	خریف کے فصل کی تعریف بیان کریں۔ نیز دو خریف کے فصلوں کے نام لکھیں۔
(iii)	سیم زدہ زمین کی اصلاح کے کوئی سے تین طریقے بیان کریں۔	یا	زرعی آلہ مسٹن ہل کے تین فوائد تحریر کریں۔
(iv)	زمین میں نامیاتی مادے کی کمی دور کرنے کے کوئی سے تین طریقے تحریر کریں۔	یا	یکیمیائی کھاد کے استعمال میں تین ضروری احتیاطیں لکھیں۔
(v)	چنے کی کاشت کے لئے زمین کے انتخاب کا طریقہ تین جملوں میں لکھیں۔	یا	زمین سے کرڈ کے خاتمے سے کیا فوائد حاصل ہوتے ہیں؟ تین جملوں میں لکھیں۔
(vi)	فصلوں کے گرد باڑ لگانے کے لئے تین موزوں پودوں کی فہرست بتائیں۔	یا	بیمار حیوانات کے علاج کے تین اقدامات تحریر کریں۔
(vii)	دھان کی فصل کو متاثر کرنے والی تین بیماریوں کے نام لکھیں۔	یا	گندم کی فصل کی تین مشہور بیماریوں کے نام لکھیں۔
(viii)	پودوں میں نائٹروجن کی کمی سے ظاہر ہونے والی تین علامات تحریر کریں۔	یا	زمین کے لئے کھاد کیوں ضروری ہے؟ کوئی سے تین وجوہات تحریر کریں۔
(ix)	پانی کے وسائل کون کون سے ہیں؟ تین وسائل کے نام لکھیں۔	یا	پانی کو محفوظ کرنے کے تین طریقے لکھیں۔
(x)	کھالوں میں پانی کے ضیاع کے کوئی سے تین اسباب بیان کریں۔	یا	آپاشی کسے کہتے ہیں۔ تین جملوں میں بیان کریں۔
(xi)	بیمار نباتات کی تین علامات تحریر کریں۔	یا	رج کے کوئی سے تین فصلوں کے نام لکھیں۔
(xii)	گھبی لگانے کا طریقہ تین جملوں میں بیان کریں۔	یا	گھبی کی غذائی اہمیت پر تین جملے لکھیں۔
(xiii)	زرعی اجناس کو محفوظ کرنے کے تین حفاظتی اقدامات لکھیں۔	یا	ذخیرہ شدہ گندم کو کیڑوں سے بچانے کے تین طریقے بیان کریں۔
(xiv)	شرح تخم کی تعریف لکھیں۔	یا	ساخت کے لحاظ سے زمین کی تین اقسام کے نام لکھیں۔
(xv)	زرعی آلہ رج سیڈ ڈرل کا مفہوم بیان کریں۔	یا	تصور کا مفہوم تین جملوں میں بیان کریں۔

حصہ سوم

(7x5=35)

نوٹ: تمام سوالات کے جوابات دیں۔ ہر سوال کے نمبر مساوی ہیں۔

#	سوال	سوال	نمبرات
سوال 3	کھاد کی کتنی اقسام ہیں؟ تفصیل سے بیان کریں۔	یا	مکئی کی کاشت کس موسم میں کی جاتی ہے؟ نیز مکئی کی کاشت کے حوالے سے درج ذیل کی وضاحت کیجئے۔ مناسب زمین کا انتخاب بیج کا انتخاب اور طریقہ کاشت
سوال 4	زرعی اجناس کو ذخیرہ کرنے کے مختلف طریقے تفصیلاً بیان کریں۔	یا	زمین کے کٹاؤ کے تین نقصانات لکھیں اور زمین کو کٹاؤ سے بچانے کے چار طریقے بیان کریں۔
سوال 5	خالص اور تندرست بیج کی سات اہم خصوصیات بیان کریں۔	یا	سبز کھاد سے کیا مراد ہے؟ نیز سبز کھاد بنانے کا طریقہ اپنے الفاظ میں بیان کریں۔
سوال 6	(الف) جانوروں میں پانی جانے والی تین عام بیماریوں کے نام تحریر کریں۔ (ب) بیمار جانور کو کیسے پہچانا جاتا ہے؟ چار علامات لکھیں۔	یا	پانی کو نقصان پہنچانے والے کوئی سے سات عناصر بیان کیجئے۔
سوال 7	(الف) گھبی کی اہم اقسام کون کون سی ہیں؟ نام لکھیں۔ (ب) گھبی کی کٹائی کب اور کیسے کی جاتی ہے؟	یا	تحفظ نباتات سے کیا مراد ہے؟ نیز سپرے کے وقت کے پانچ احتیاطی تدابیر لکھیں۔



بورڈ آف ایلمینٹری ایگزامینیشن گلگت بلتستان

خصوصی امتحان 2024

کل وقت: 25 منٹ

کل نمبرات : 20

جوابی نمبر کاپی

جماعت : ہشتم

مضمون : ہوم اکٹامکس

دستخط امتحن

حصہ اول

حصہ اول لازمی ہے۔ اس کے جوابات اسی صفحہ پر دے کر ناظم امتحانی مرکز کے حوالے کریں۔ کاٹ کر یا دوبارہ لکھنے کی اجازت نہیں ہے۔ لیڈ پینل کا استعمال ممنوع ہے۔

سوال 1: ہر سوال کے سامنے دیئے گئے درست دائرہ کو پُر کریں۔ ہر سوال کے نمبر مساوی ہیں۔

نام: _____

#	سوال	الف	ب	ج	د	الف	ب	ج	د
i.	ہوم اکٹامکس میں کھانے کے تحفظ کے لئے ہم جو طریقے استعمال کرتے ہیں ان کا گہرا تعلق کس مضمون سے ہے؟	معاثیات	کیما	لسانیات	نفیات	<input type="radio"/>	<input type="radio"/>	<input type="radio"/>	<input type="radio"/>
ii.	ہوم اکٹامکس کے معنی گھریلو _____ کے ہیں۔	سیاسیات	شہریت	نفیات	معاثیات	<input type="radio"/>	<input type="radio"/>	<input type="radio"/>	<input type="radio"/>
iii.	لڑکوں کے لئے بلوغت عام طور پر _____ سال کی عمر میں ہوتی ہے۔	12 سے 13	14 سے 15	16 سے 17	18 سے 19	<input type="radio"/>	<input type="radio"/>	<input type="radio"/>	<input type="radio"/>
iv.	ماہرین غذائے مطابق _____ سال میں صحت مند خوراک کھانے کی عادت میں کمی واقع ہوتی ہے۔	2 سے 5	6 سے 10	11 سے 15	16 سے 19	<input type="radio"/>	<input type="radio"/>	<input type="radio"/>	<input type="radio"/>
v.	کونسا طریقہ خوراک کے تحفظ کے قدیم ترین ٹیکنیکوں میں سے ایک ہے؟	ٹھنڈا کرنا	نمک لگانا	خشک کرنا	اچار بنانا	<input type="radio"/>	<input type="radio"/>	<input type="radio"/>	<input type="radio"/>
vi.	مانع خوراک کے تحفظ کے خاص عمل کو _____ کہتے ہیں۔	جمانا	پاچر ائزیشن	ٹھنڈا کرنا	نمک لگانا	<input type="radio"/>	<input type="radio"/>	<input type="radio"/>	<input type="radio"/>
vii.	کارل راجر کے مطابق خودی کے تصور کے کتنے اجزاء ہیں؟	1	3	5	7	<input type="radio"/>	<input type="radio"/>	<input type="radio"/>	<input type="radio"/>
viii.	_____ تصور خودی سے مراد ذات کی وہ شکل ہے جو ہم بننا چاہتے ہیں۔	خود بینی	خود اعتمادی	مثالی	لچک	<input type="radio"/>	<input type="radio"/>	<input type="radio"/>	<input type="radio"/>
ix.	_____ بہترین حکیمانہ مفکر ہوتے ہیں۔	تجربہ کار	سپہ سالار	محقق	سفارت کار	<input type="radio"/>	<input type="radio"/>	<input type="radio"/>	<input type="radio"/>
x.	کونسا عنصر شخصیت کی نشوونما میں معاون موروثی عوامل میں شامل نہیں ہے؟	ذہانت	جنسی اختلافات	ثقافتی ماحول	اعصابی نظام	<input type="radio"/>	<input type="radio"/>	<input type="radio"/>	<input type="radio"/>
xi.	ریشے کتنے قسم کے ہوتے ہیں؟	2	4	6	8	<input type="radio"/>	<input type="radio"/>	<input type="radio"/>	<input type="radio"/>
xii.	جلنے کے عمل سے ریشے کی جانچ کرتے وقت کس ریشے سے جلے ہوئے بالوں کی طرح بو آتی ہے؟	سوتی	لینن	ریشم	اون	<input type="radio"/>	<input type="radio"/>	<input type="radio"/>	<input type="radio"/>
xiii.	سلائی مشین کا کونسا پرزہ کپڑے کو دندانے پر جمائے رکھنے کا کام سرانجام دیتا ہے؟	پیر	سلائیڈ	دھاگہ لیور	بیڈ	<input type="radio"/>	<input type="radio"/>	<input type="radio"/>	<input type="radio"/>
xiv.	کونسا ٹانگا گل کاری کے دوران تیز اور کناروں کو بنانے کے لئے استعمال ہوتا ہے؟	سائٹن	ڈنڈی	لمبا اور چھوٹا	مچھلی	<input type="radio"/>	<input type="radio"/>	<input type="radio"/>	<input type="radio"/>
xv.	بنیادی رنگوں کی تعداد کتنی ہے؟	1	2	3	4	<input type="radio"/>	<input type="radio"/>	<input type="radio"/>	<input type="radio"/>
xvi.	پیلے اور نیلے رنگت کو ملا کر _____ رنگ بنایا جاتا ہے۔	نارنجی	بنفشی	کالا	سبز	<input type="radio"/>	<input type="radio"/>	<input type="radio"/>	<input type="radio"/>
xvii.	لفظ ڈیزائن _____ زبان کے لفظ ڈیزائنوں سے اخذ کیا گیا ہے۔	عربی	لاطینی	فارسی	انگریزی	<input type="radio"/>	<input type="radio"/>	<input type="radio"/>	<input type="radio"/>
xviii.	_____ ڈیزائن ہندی نمونوں سے ماخوذ ہوتے ہیں۔	تاریخی	روایتی	جیومیٹرک	قدرتی	<input type="radio"/>	<input type="radio"/>	<input type="radio"/>	<input type="radio"/>
xix.	وقت کو نتیجہ خیز طریقے سے استعمال کرنے کی صلاحیت _____ کہلاتا ہے۔	انتظام توانائی	انتظام وقت	انتظام زر	انتظام ہدف	<input type="radio"/>	<input type="radio"/>	<input type="radio"/>	<input type="radio"/>
xx.	کام کو آسان بنانے کے کس طریقے میں جدید آلات کی ضرورت ہوتی ہے؟	پروسس	آپریشن	میویشن	الف اور ب دونوں	<input type="radio"/>	<input type="radio"/>	<input type="radio"/>	<input type="radio"/>



بورڈ آف ایلیمنٹری ایگزامینیشن گلگت بلتستان

خصوصی امتحان 2024



کل وقت : 2 گھنٹے 35 منٹ
کل نمبرات : 80
جوابی نمبر کاپی

جماعت : ہشتم
مضمون : ہوم اکٹا مکس
دستخط ممتحن

حصہ دوم

درج ذیل سوالات کے جوابات علیحدہ سے مہیا کی گئی جوابی کاپی پر دیں۔ آپ کے جوابات صاف اور واضح ہونے چاہئیں۔

(15 × 03 = 45)

سوال 2: تمام سوالات کے جوابات دیں۔ ہر سوال کے نمبر مساوی ہیں۔

#	سوال	سوال	نمبرات
(i)	ہوم اکٹا مکس کے طلبہ مستقبل میں کن شعبوں کو اختیار کر سکتے ہیں؟ کوئی سے تین کا ذکر کریں۔	یا	ہوم اکٹا مکس کے تین مقاصد بیان کریں۔
(ii)	نوعمر بچے کی صحت مند خوراک میں معاون تین تجاویز تحریر کیجئے۔	یا	ذاتی حفظانِ صحت کی تین تدابیر تحریر کیجئے۔
(iii)	خوراک کو کن تین اہم وجوہات کی بنا پر محفوظ کیا جاتا ہے؟	یا	سبزیوں کو پکاتے وقت کن تین اہم باتوں کا خیال رکھنا چاہئے؟
(iv)	خود بینی کے نظریے کو تین جملوں میں بیان کریں۔	یا	مثبت تصورِ خودی کے تین طریقے بیان کریں۔
(v)	خودی کے تصور کو متاثر کرنے والے تین عوامل کے نام تحریر کیجئے۔	یا	کردار سازی کے تین اجزاء کے نام تحریر کیجئے۔
(vi)	سپہ سالار کی تین خصوصیات بیان کریں۔	یا	شخصیت کی نشوونما میں سکول کے کردار پر تین جملے لکھیں؟
(vii)	فابری کی شناخت کے کوئی سے تین طریقوں کے نام لکھیں۔	یا	انسانی ساختہ ریشے کی تین مثالیں لکھیں۔
(viii)	ٹیکسٹائل سے کیا مراد ہے؟ تین جملوں میں بیان کریں۔	یا	سوئی کپڑے کی سلائی کے تین اصول تحریر کریں۔
(ix)	سلائی کڑھائی کے ڈبے میں درکار تین اشیاء کے نام لکھیں۔	یا	لباس کی سجاوٹ میں استعمال ہونے والے تین لوازمات کے نام لکھیں۔
(x)	رنگوں کے دائرے کے بارے میں تین جملے تحریر کیجئے۔	یا	رنگوں کی اہمیت تین جملوں میں تحریر کریں۔
(xi)	بنیادی اور ثانوی رنگت میں فرق تین نکات میں واضح کریں۔	یا	ڈیزائن کے کوئی سے تین عناصر بیان کریں۔
(xii)	روایتی ڈیزائن سے کیا مراد ہے؟ تین جملوں میں بیان کریں۔	یا	تاریخی ڈیزائن سے کیا مراد ہے؟ تین جملوں میں بیان کریں۔
(xiii)	وقت اور توانائی بچانے والے تین آلات کے نام لکھیں۔	یا	پیسے کے انتظام کی تعریف تین جملوں میں بیان کریں۔
(xiv)	قلیل مدتی اور طویل مدتی اہداف میں فرق واضح کریں جو تین لائنوں سے زیادہ نہ ہو۔	یا	"کام بہ ذات خود ایک وقار ہے" پر تین جملوں میں اپنے خیالات کا اظہار کریں۔
(xv)	کام کو آسان بنانے کے کوئی سے تین فولد بیان کریں۔	یا	کام کو کیسے آسان بنایا جاسکتا ہے؟ تین اقدامات تحریر کیجئے۔

حصہ سوم

(5x7=35)

نوٹ: تمام سوالات کے جوابات دیں۔ ہر سوال کے نمبر مساوی ہیں۔

#	سوال	سوال	نمبرات
سوال 3:	ہوم اکٹا مکس کی تعریف دو جملوں میں تحریر کریں۔ نیز ہوم اکٹا مکس کا کوئی سے پانچ دوسرے مضامین کے ساتھ تعلق بیان کریں۔	یا	خود شناسی کی اہمیت تفصیل سے بیان کریں۔
سوال 4:	روزمرہ زندگی میں کھانے کو ذخیرہ کرتے وقت حفظانِ صحت کے کن اصولوں کو مد نظر رکھنا چاہئے؟ کوئی سے سات اصول تحریر کریں۔	یا	رنگت کی تعریف کریں۔ نیز روزمرہ زندگی میں کھانے، کپڑوں اور گھریلو سامان پر رنگوں کے اثرات بیان کریں۔
سوال 5:	آپ اپنی شخصیت کو کس طرح بہتر بنا سکتے ہیں؟ سات مختلف طریقے بیان کریں۔	یا	سلائی مشین کی دیکھ بھال کے لئے کوئی سے سات تجاویز تحریر کریں۔
سوال 6:	خوراک کی خرابی کی وجوہات تفصیل سے بیان کریں۔	یا	آرائشی ڈیزائن کی اہمیت بیان کریں۔
سوال 7:	انتظام وقت کے لئے آپ کیا اقدامات اٹھائیں گے۔ کوئی سے سات اقدامات کا ذکر کریں۔	یا	سات مختلف داغوں کے نام اور ان کو دور کرنے کے طریقے لکھیں۔



کل وقت : 25 منٹ

جماعت : ہشتم

کل نمبرات : 20

مضمون : عربی

دستخط ممتحن _____ جوابی نمبر کاپی _____

حصہ اول

حصہ اول لازمی ہے۔ اس کے جوابات اسی صفحہ پر دے کر ناظم مرکز کے حوالے کریں۔ کاٹ کر دوبارہ لکھنے کی اجازت نہیں ہے۔ لیڈ پینسل کا استعمال ممنوع ہے۔ ہر سوال کے نمبر مساوی ہے۔

#	سوال	الف	ب	ج	د	الف	ب	ج	د
i.	وَقَعَ مِيقَاتُ الْمَدِينَةِ بَيْنَ الْمَسْلُومِينَ وَالْمَدِينَةِ الْمَكْرُورَةِ۔	الْكُفَّار	الْمُهْجُود	الْمُهْجُودُونَ	الْمُنَافِقِينَ	<input type="radio"/>	<input type="radio"/>	<input type="radio"/>	<input type="radio"/>
ii.	قَالَ الرَّسُولُ اللَّهُ عَلَيَّ وَعَلَىٰ آلِيَّ وَالْحَبَشَةِ مِنْ _____	وَاجِب	فَرْض	سُنَّتِي	غَيْرِ سُنَّتِي	<input type="radio"/>	<input type="radio"/>	<input type="radio"/>	<input type="radio"/>
iii.	حَقُّ الْمُسْلِمِ عَلَى الْمُسْلِمِ _____	سِتٌّ	ارْبَعٌ	خَمْسٌ	عَشْرَةٌ	<input type="radio"/>	<input type="radio"/>	<input type="radio"/>	<input type="radio"/>
iv.	"النَّبْرُ مَهْلٌ" اسْمُ الْفَاعِلِ مَهْلٌ فِي اللُّغَةِ الْأَرْدِيَّةِ:	انار	سبب	مالنا	کیلا	<input type="radio"/>	<input type="radio"/>	<input type="radio"/>	<input type="radio"/>
v.	فَضَّلَ الْبَيْتَاءَ مِمَّا لَمْ يَأْسِمْ _____	غَلَاظِيهِ	ارْبَعَةٌ	خَمْسَةٌ	سِتَّةٌ	<input type="radio"/>	<input type="radio"/>	<input type="radio"/>	<input type="radio"/>
vi.	تَوَحَّيْدُ اللَّهِ لَنَا _____	سِتَاءٌ	ثَمَسٌ	قَمَرٌ	نُورٌ	<input type="radio"/>	<input type="radio"/>	<input type="radio"/>	<input type="radio"/>
vii.	كُنْتُ مِيقَاتُ الْمَدِينَةِ بَيْنَ الْمُسْلِمِينَ _____	الْمُسْتَرْكِبِينَ	الْمُضَارِي،	الْمُهْجُود،	أَهْلُ الْهِنْدِ	<input type="radio"/>	<input type="radio"/>	<input type="radio"/>	<input type="radio"/>
viii.	لَا بَأْسَ... إِنْ شَاءَ اللَّهُ:	ظُهُورٌ،	ظُهُورٌ،	مُرُورٌ،	قَرَارٌ	<input type="radio"/>	<input type="radio"/>	<input type="radio"/>	<input type="radio"/>
ix.	كَانَ حَسَنٌ رَضِيَ اللَّهُ تَعَالَى عَنْهُ فِي الْجَاهِلِيَّةِ _____ أَهْلُ الْمَدِينِ	شُعَاعٌ	قَاتِلٌ	فَقِيرٌ	مُعَلِّمٌ	<input type="radio"/>	<input type="radio"/>	<input type="radio"/>	<input type="radio"/>
x.	مَنْ سَبَّ عَلَى مُسْلِمٍ..... اللَّهُ عَلَيْهِ فِي الدُّنْيَا وَالْآخِرَةِ:	سَبَّرَ،	أَعَانَ،	سَاعَدَ،	أَفْرَ	<input type="radio"/>	<input type="radio"/>	<input type="radio"/>	<input type="radio"/>
xi.	تَقْسِمُ بِلْتِيسْتَانِ إِلَى عَاقِلَتَيْنِ وَصَاعَا لَتَى _____	أَسْتَوْر	هَضْرَه	جَلْبَت	سَكْرَدو	<input type="radio"/>	<input type="radio"/>	<input type="radio"/>	<input type="radio"/>
xii.	إِنَّ كَلِمَةَ "الْمُسَوِّمَةِ" معناها فِي اللُّغَةِ الْأَرْدِيَّةِ:	کچھ کچھ	قسم قسم	تکڑے تکڑے	سفید سفید	<input type="radio"/>	<input type="radio"/>	<input type="radio"/>	<input type="radio"/>
xiii.	إِخْتَرَعَ عِلْمُ الْعَرُوضِ:	ابنُ حَاجِبٍ،	ابنُ جُرَيْرٍ،	الْحَلِيلُ بْنُ أَحْمَدَ	سُلَيْمَانُ	<input type="radio"/>	<input type="radio"/>	<input type="radio"/>	<input type="radio"/>
xiv.	مَنْ..... عَلَى مُعْصِرٍ يَكْتَرُ اللَّهُ عَلَيْهِ فِي الدُّنْيَا وَالْآخِرَةِ:	أَفْرَ،	يَسَّرَ	فَتَحَ،	غَلَبَ	<input type="radio"/>	<input type="radio"/>	<input type="radio"/>	<input type="radio"/>
xv.	رَسُولُ اللَّهِ ﷺ وَأَصْحَابُهُ وَعَلَمٌ غَيْرُ اسْمِ الْمَدِينَةِ مِنْ _____ إِلَى الْمَدِينَةِ الْمَكْرُورَةِ	يَمِينٌ	الْمَدِينَةُ الْمَكْرُومَةُ	يَنْتَرِبُ	الطَّائِفُ	<input type="radio"/>	<input type="radio"/>	<input type="radio"/>	<input type="radio"/>
xvi.	"الرَّثْمَانُ" معناها فِي اللُّغَةِ الْأَرْدِيَّةِ:	مالنا	توت	سبب	انار	<input type="radio"/>	<input type="radio"/>	<input type="radio"/>	<input type="radio"/>
xvii.	إِذَا عَاظَ طَبْعُهُمُ _____ قَالُوا سَلَامًا:	الْعَامِلُونَ	الْفَاعِلُونَ	الْجَاهِلُونَ	الْمُسْتَقُونَ	<input type="radio"/>	<input type="radio"/>	<input type="radio"/>	<input type="radio"/>
xviii.	فِعْلُ أَمْرِ مِنْ "يَكْتُبُ":	يَكْتُبُ	أَكْتُبُ	كُتِبَ	لَا يَكْتُبُ	<input type="radio"/>	<input type="radio"/>	<input type="radio"/>	<input type="radio"/>
xix.	فَصْلُ الْبَيْتِ مِنْ مَوَاسِمِ:	الْحَمْسَةُ	الْاِسْتِثْنَاءُ	الْأَرْبَعَةُ	السَّبْعَةُ	<input type="radio"/>	<input type="radio"/>	<input type="radio"/>	<input type="radio"/>
xx.	إِنَّ كَلِمَةَ "الْمَدْرَجِ" معناها فِي اللُّغَةِ الْأَرْدِيَّةِ:	خوبصورت	تعريف،	واضح،	کامیاب	<input type="radio"/>	<input type="radio"/>	<input type="radio"/>	<input type="radio"/>



کل وقت: ۲ گھنٹے 35 منٹ

کل نمبرات : 80

جماعت : ہشتم

مضمون : عربی

دستخط ممتحن جوابی نمبر کاپی

حصہ دوم (کل نمبر 50)

درج ذیل سوالات کے جوابات علیحدہ سے مہیا کی گئی جوابی کاپی پر دیں۔ آپ کے جوابات صاف اور واضح ہونے چاہیے۔

السؤال الثاني: (الف) اقرأ النص التالي بعناية ثم أجب عن خمسة من الأسئلة التالية باللغة العربية۔ (10 = 05 × 02)

فُضِّلَ الْإِثْمَاءُ مِنَ الْإِثْمَاءِ كُلِّ سَنَةٍ بِبَدَأِ مِنْ مُتَّصِفٍ شَهْرَ الْكُتُبِ، وَبَنِيَتْ فِي أَوَّلِ شَهْرِ يَنَاءٍ فِي بَلْكَتَانِ،
هَازَهُ قَصِيرٌ وَلَيْدٌ طَوِيلٌ۔ وَهَذَا التَّغْيِيرُ يُقَرَّبُ فِي أَنْشِطَةِ النَّاسِ۔ وَأَوَقَاتُ الصَّلَوَاتِ الْمَفْرُوعَةِ تَتَغَيَّرُ أَيْضًا۔

الأسئلة:

- 1- مَنْ أَيْ دَرَسَ يَتَوَدُّ هَذِهِ الْعِبَارَةُ؟
- 2- هَلْ أَوَقَاتُ الصَّلَوَاتِ الْمَفْرُوعَةِ تَتَغَيَّرُ فِي بَلْكَتَانِ؟
- 3- هَلْ فُضِّلَ الْإِثْمَاءُ يَنَاءً كُلِّ سَنَةٍ؟
- 4- مَتَى يَأْتِي فُضْلُ الْإِثْمَاءِ؟
- 5- مَتَى يَنْتَهِي الْإِثْمَاءُ فِي بَلْكَتَانِ؟
- 6- كَمْ فُضِّلَ فِي بَلْكَتَانِ؟

(10 = 05 × 02)

السؤال الثاني (ب) أجب / أجبني عن خمسة من الأسئلة التالية۔

- 1- هَلْ الرَّجُلُ وَالْمَرْأَةُ آمَامَ أَحْكَامِ اللَّهِ تَعَالَى سَوَاءٌ؟
- 2- مَا هِيَ أَهْمُ اللُّغَاتِ فِي الْمَنَاطِقِ الشِّمَالِيَّةِ؟
- 3- مَنْ عِبَادُ الرَّحْمَنِ؟
- 4- مَا هُوَ الْمُصْنِيفُ؟
- 5- مَا هُوَ الْبَيْتُ الْأَوَّلُ؟
- 6- مَنْ غَيَّرَ اسْمَ الْمَدِينَةِ مِنْ مِثْرَبٍ إِلَى الْمَدِينَةِ الْقُدُورَةِ؟
- 7- أَيْنَ وُلِدَ حَسَّانُ بْنُ قَابِثٍ رَضِيَ اللَّهُ تَعَالَى عَنْهُ؟

(10 = 08 + 02)

السؤال الثالث: ترجم القصيدة التالية بلغة الأردية واكتب اسم الشاعر أيضًا۔

الظنين لنا والغرب لنا
أضحى الإسلام لنا ديناً
بنيت في الأرض معابد لها
هو أول بيت نحفظه
والبيت الأول كعبتنا
بحياة الروح ونحفظها

(10 = 05 × 02)

السؤال الرابع: استخرج / استخذي أي خمس كلمات في جمل مفيدة:

الثناء، ليل، واسيع، الإسلام، مات، الصلاة، سلامة

(10 = 05 × 02)

السؤال الخامس: رتب / رتبي خمس كلمات من الآية في الجمل المفيدة:

- 1- عذاب، يحاؤون، جهنم
- 2- الرزق، لا يشهدون،
- 3- انخفضت، في الشتاء، الحرارة،
- 4- مع الله، لا يدعون، آخر، لها
- 5- فضل، يأتي، متى، الشتاء
- 6- يزرع، المخلقة، القواسم، القلائون

حصہ سوم (کل نمبر 30)

(05 = 05 × 01)

السؤال السادس: (الف) غير الأفعال التالية من الماضي إلى المضارع۔

جعل، بلغ، كتب، أكل، نصر

(05 = 05 × 01)

(ب) أكتب / أكتبي مفرد ما يأتي من الجمع۔

مكاتب، شبهات، ثقافات، مشروعات، كوارث

(10 = 10 × 01)

السؤال السابع: أكتب / أكتبي رسالة الإبان إلى الأب ليصف فيها وضع المدرسة ودراستها:

أو

(10 = 08 + 02)

ترجم العبارة التالية إلى الأردية واكتب اسم المدرس المأخوذ منه أيضًا۔

يزرع الفلاحون القواكر المخلقة ويكتبون كثيرا من المنافع المال۔ ويبدأون الناس على تربية البذن
وتقويته، ويؤدوا الحب وإسلام بنن الناس عندنا يتبادلون القواكر كالحدايا۔

(10 = 05 × 02)

السؤال الثامن: ترجم / ترجمي خمساً من الجمل التالية إلى اللغة العربية۔

1. راکا پوشی گلگت میں ہے۔
2. کسان پھل اگاتے ہیں۔
3. وہ ایک مشہور ادیب ہیں۔
4. امجد اچھا طالب علم ہے۔
5. گاڑی کب چلے گی؟
6. میثاق مدینہ کے کتنے نام ہیں؟